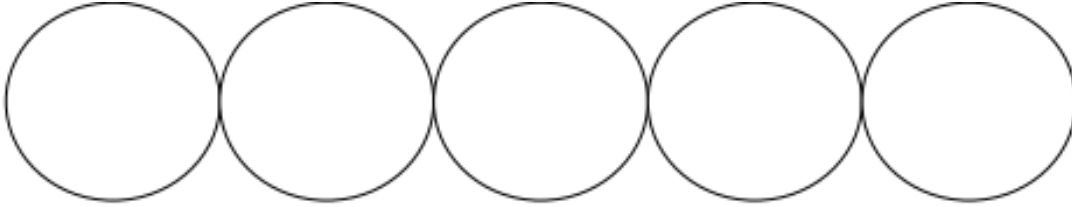


ΟΝΟΜΑ: _____

ΜΑΘΗΜΑΤΙΚΑ 5^η ΕΝΟΤΗΤΑ

Κεφ. 33 Οργάνωση συλλογών - Αριθμοί μέχρι το 50 (1)

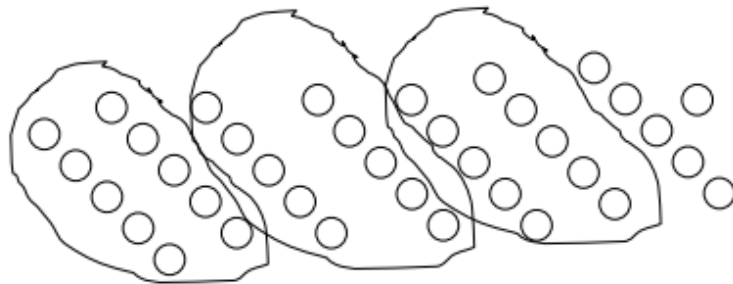
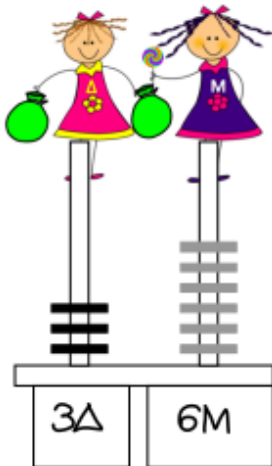
1. Μετρώ 10 - 10 έως το 50.




2. Βρίσκω το αποτέλεσμα.


$$10 + 3 = \dots\dots$$
$$10 + 10 + 10 + 6 = \dots\dots\dots$$
$$10 + 10 + 9 = \dots\dots\dots$$
$$10 + 10 + 10 + 10 + 5 = \dots\dots\dots$$
$$10 + 8 = \dots\dots\dots$$


3. Βρίσκω πόσα κρατάει η **Μονάδα** και πόσα η **Δεκάδα** όπως το παράδειγμα.



$$= 10 + 10 + 10 + 6 = 36$$



$$= \underline{\hspace{2cm}} = \underline{\hspace{2cm}}$$